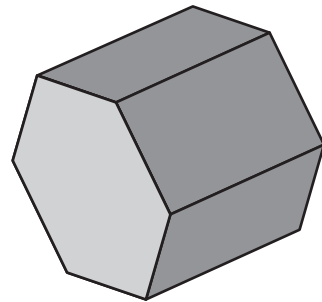


1



كم حرفًا لدى هذا المنشور السداسي؟

- A 8
- B 12
- C 16
- D 18

2

ذهبت فتاة للمشي.

تبين الساعات الوقت الذي بدأت فيه الفتاة المشي والوقت الذي انتهت فيه.



وقت الانتهاء

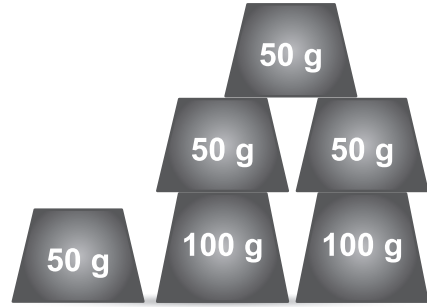


وقت البدء

كم عدد الدقائق التي مشتها الفتاة؟

- A 8 دقائق
- B 14 دقيقة
- C 20 دقيقة
- D 25 دقيقة


3



ما المجموع الإجمالي للأوزان السابقة؟

- 300 g A
- 350 g B
- 400 g C
- 600 g D

4 أختين عمر أحدهما 89 عامًا وعمر الأخرى 98 عامًا



ما الفرق بين عمريهما؟

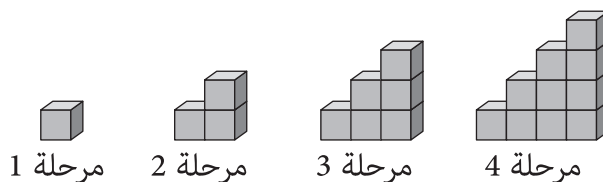
- 8 A
- 9 B
- 10 C
- 11 D

المادة	الكتلة
8 أقلام	120 جرامًا
5 أقلام تلوين	60 جرامًا
10 أقلام رصاص	50 جرامًا
18 فرشاه تلوين	180 جرامًا

5 أي مادة في الجدول هي الأكبر كتلة؟

- A** قلم واحد
B قلم تلوين واحد
C قلم رصاص واحد
D فرشاة تلوين واحدة

6 يقوم خالد بعمل نمطًا معينًا باستخدام المكعبات على عدة مراحل. بحيث لا يوجد مكعبات مخفية.



يستكمل خالد عمل هذا النمط.

كم مكعبًا سيحتاج لعمل هذا النمط في المرحلة الثامنة؟

- A** 15
B 20
C 28
D 36

