

الاختبار التدريبي

نبذة عن الاختبار التدريبي

يحتوي الاختبار التدريبي على 10 أسئلة. صمم هذا الاختبار ليعطيك فكرة عن نمط أسئلة اختبار IBT الرئيسي.

أجب على الأسئلة:

كل سؤال لديه أربعة اختيارات. اختر الإجابة الأنسب من الاختيارات الأربعة : **A ، B ، C ، D**.
سوف تجد إجابات الأسئلة في آخر صفحة من هذا الكتيب.

الأدوات المسموح بها في هذا الاختبار

يمكن استخدام قلم رصاص في هذا الاختبار. لا يمكنك استخدام الآلة الحاسبة في هذا الاختبار.

الزمن المخصص للاختبار :

الزمن المحدد لإكمال الاختبار هو 15 دقيقة.

1 2 14 21 33 46 57 78

كم عددًا من الأعداد السابقة يعتبر عددًا زوجيًا؟

2 A

3 B

4 C

7 D

2



كم الساعة في الشكل السابق؟

8:51

A

9:09

B


10:09

C

10:44

D

3



كم عدد المربعات وعدد المثلثات الموجودة في الشكل السابق؟

A مثلث و مربع

B مثلث و مربعان

C مثلثان و مربع

D مثلثان و مربعان

4 في كل مرة ترى حصة قطة في الشارع، ترسم خطأً على ورقة.

يبين الشكل هذا أنها رأَت 5 قطط : $|||||$

هذه هي ورقة حصة:



كم عدد القطط التي رأتها حصة؟

3

4

10

12

A

B

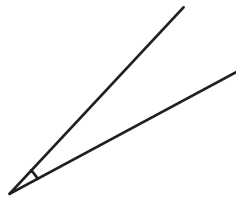
C

D

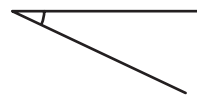
5 أي من الزوايا التالية هي الأكبر؟



A



B



C



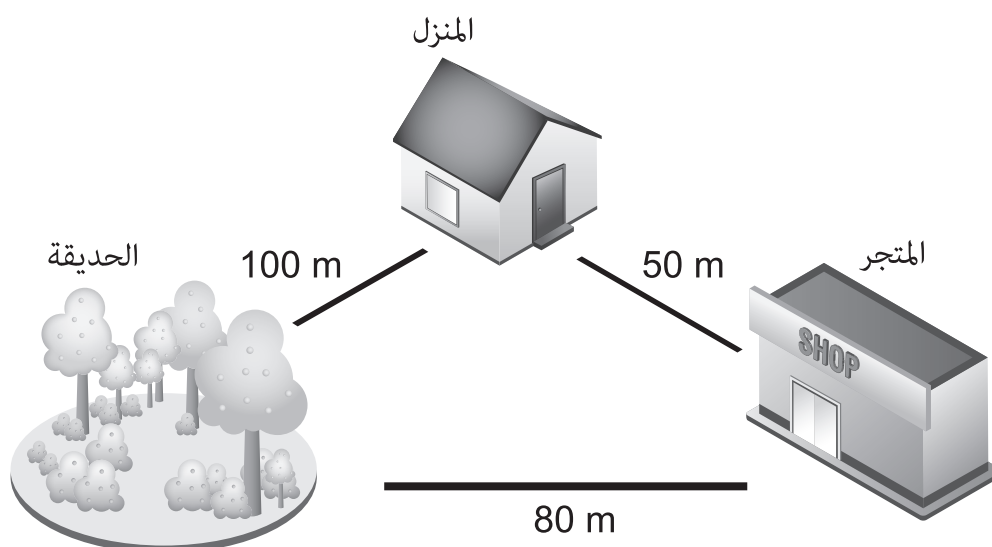
D

6 يوجد في كيس كرتان ذات لون أحمر و 4 كرات زرقاء و 5 كرات خضراء و 3 كرات صفراء. أغلق راشد عينيه وأخذ كرة من الكيس.

ماذا سيكون لون الكرة على الأرجح؟

- A أحمر
- B أزرق
- C أخضر
- D أصفر

7 تبين الخريطة التالية المسافات بين الأماكن في المدينة التي تعيش بها جميلة.



تركت جميلة المنزل و ذهبت إلى المتجر.

وبعد ذلك رجعت إلى المنزل مشياً قبل الذهاب إلى الحديقة

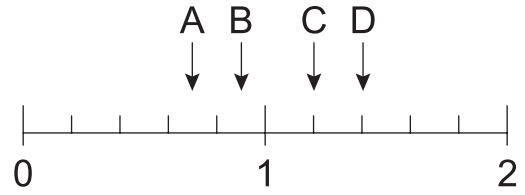
ما إجمالي المسافة التي مشتها جميلة؟

- A 130 m
- B 150 m
- C 200 m
- D 230 m

8 أي من الأعداد التالية هو الأكبر؟

- A تسعة و سبعون
B أربعة آلاف و واحد
C ثمانية و ثلاثة و عشرون
D ثلاثة آلاف و تسعمائة و تسعة و تسعون

9 أي سهم يشير إلى 0.7 على خط الأعداد التالي؟



- A سهم A
B سهم B
C سهم C
D سهم D

10 سبح راشد 100 m في زمن مقداره 3 دقائق و 54 ثانية.
ما الوقت الذي استغرقه راشد في السباحة بالثانية؟

A 114 ثانية

B 234 ثانية

C 294 ثانية

D 354 ثانية

الإجابات الصحيحة

C	1
A	2
C	3
D	4
D	5
C	6
C	7
B	8
A	9
B	10

